

関東学院中学校 2023年度入学試験問題

社 会

(一期A)

• 答えはすべて解答用紙に記入しなさい

時間 30分

【問題 1】 次の文章を読んで、あとの問いに答えなさい。

関内駅のすぐそば、神奈川県立歴史博物館に行ってみました。通常展示は3 Fからスタート。

最初の部屋にはA. 縄文時代の貝塚の断面が復元されていました。人面土器や土偶などもならんでいます。古墳時代の甲冑があります。兜は野球帽のような形をしています。

次の部屋には相模国の [ B ] の模型。相模 [ B ] は奈良時代の半ばに建てられました。跡地は海老名市にあります。神奈川県はかつての相模国とC. 武蔵国から成っています。横浜市の東部や川崎市は武蔵国に入ります。鎌倉時代の御家人を [ D ] に任命し、土地の支配を認めた文書も展示されています。同じ内容の2通の文書がならんでいて、1つは政所という幕府の役所から出された任命状。もう1つは源頼朝のサイン入りの任命状です。御成敗式目もあります。これは鎌倉幕府はもちろんの事、室町幕府でも基本的な法典でした。

鎌倉五山の1つ円覚寺の舍利殿内部が実物大で復元されています。円覚寺の開祖は無学祖元という僧侶で、元に滅ぼされた [ E ] から来日しました。

北条早雲や北条氏綱の肖像画があります。北条といっても鎌倉幕府の重職である [ F ] を務めた北条義時や北条泰時の北条氏とは違い、戦国武将の北条早雲から始まる一族です。小田原を拠点としましたが4代目の北条氏政・5代目の氏直の代に [ G ] に攻略されました。

2 Fに降りて、近代の部屋にはペリーが初めて来航した時の4隻の軍艦の模型があります。2隻の蒸気船と2隻の帆船です。船の側面には大砲がならんでいます。文字通りの砲艦外交です。これ以降、日本でもH. 大砲の製造に力を入れます。大砲と言えば博物館の前に大砲の砲身が横たわっています。よく見ると横に太いくさりがついています。解説を読むと、商人が旧式となった大砲を船の碇に造り替え、販売しようとしていた時にI 関東大震災によって倒壊した店ごと地中に埋まり、後に掘り出されたもののようです。

ペリーが最初の来日で上陸したのは久里浜でしたが、2度目の来日でペリーが上陸したのは、まさにこの近くです。開港後、横浜はJ. 文明開化の象徴ともいえる場所となりました。外国人の居住や営業は現在の関内周辺のK. 居留地に制限されました。この博物館の建物はもともと横浜正金銀行本店でした。L. 貿易での金銭のやり取りに重要な役割を果たしました。

ペリーがおみやげとして持ってきた鉄道模型があります。最先端の文化を紹介するために献上されたものです。日本で最初の鉄道はM. 東京の新橋と横浜の間、ついで大阪と神戸の間です。

宮川香山の真葛焼も展示されています。香山は明治の初めに京都から横浜に招かれ、輸出用の陶磁器を焼きました。香山の窯があったのは関東学院中学校のすぐ近くです。

真っ赤な「ロン毛の鬘<sup>かつら</sup>」があります。「しゃぐま」と呼ばれます。戊辰戦争で新政府軍の一部が身に着けたものと言われています。藩ごとに毛の色が違い、展示されている赤毛は  のものと言われています。

横浜O. 浮世絵も楽しそうです。諸外国の船やシーソーを楽しむ西洋人、大きな窯でパンを焼く姿なども描かれています。

その他、戦時中に関する資料、昭和の家電なども展示されています。

※展示品には複製品（レプリカ）もあります。

問1 下線部Aからよく発見されるものとして不適当なものを次から1つ選び、記号で答えなさい。

- ア. 壊れた石器      イ. 魚の骨      ウ. 木の鍬<sup>くわ</sup>や鋤<sup>すき</sup>  
エ. 動物の骨      オ. 壊れた土器

問2 空欄Bに当てはまる語句を漢字で答えなさい。

問3 下線部Cに関して、古代の律令制では諸国が七道に分けられています。当初、相模国は東海道の属していますが、武蔵国は東山道に属していました。771年に東海道の属す形に変更されました。その理由について以下の文章と図を参考にして説明しなさい。その際、解答欄の形式に従い、指定語句を必ず用い、用いたところに下線をひきなさい。

【指定語句】 主要な道

【参考】

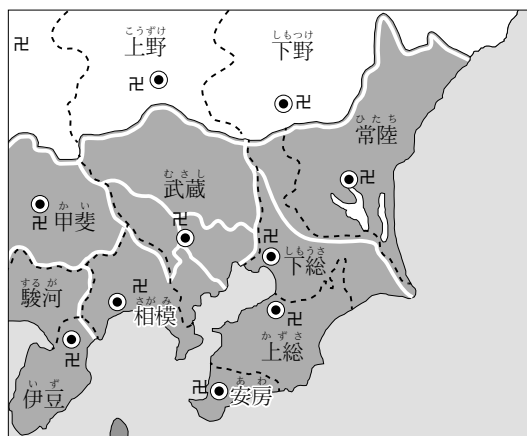
「～道」は道路という意味と、道路を含む領域という意味があった。

都からの連絡は東海道・東山道などの道ごとに伝えられた。

国の名称は都に近い方から順に、上野・下野のように上下や越前・越中・越後のように前中後などがつけられた。

奈良時代以降、相模国・武蔵国・下総国を結ぶ陸路の整備が進んだ。

右の図は9世紀以降の状況である。



問4 空欄Dに当てはまる語句を漢字で答えなさい。

問5 空欄Eに当てはまる国名を次から1つ選び、記号で答えなさい。

ア. 唐      イ. 明      ウ. 蒙古<sup>もうこ</sup>      エ. 宋(南宋)      オ. 高麗<sup>こうらい</sup>

問6 空欄Fに当てはまる語句を漢字で答えなさい。

問7 空欄Gに当てはまる人名を漢字で答えなさい。

問8 下線部Hに関連して、以下のうち大砲製造に最も関係の深いものはどれですか。次から1つ選び、記号で答えなさい。

ア. 韮山<sup>にらやま</sup>反射炉      イ. 富岡製糸場      ウ. 石見大森銀山  
エ. 高島炭鉱      オ. 首里城

問9 下線部Iについて、実際に起こった出来事として適当なものはどれですか。次から2つ選び、アイウエオ順に記号で答えなさい。

ア. 関東大震災以降、横浜ではこれ以上の死傷者が出る地震は発生していない。  
イ. 混乱の中で多くの朝鮮人が殺害された。  
ウ. 火災による被害が最大で津波の被害はほとんどなかった。  
エ. 復興支援のため大韓民国や中華人民共和国から多くの援助が届いた。  
オ. これ以降、横浜では木造住居よりも鉄筋コンクリート住居が多くなった。

問10 下線部Jについて、明治初期の文明開化の象徴として不適当なものを次から1つ選び、記号で答えなさい。

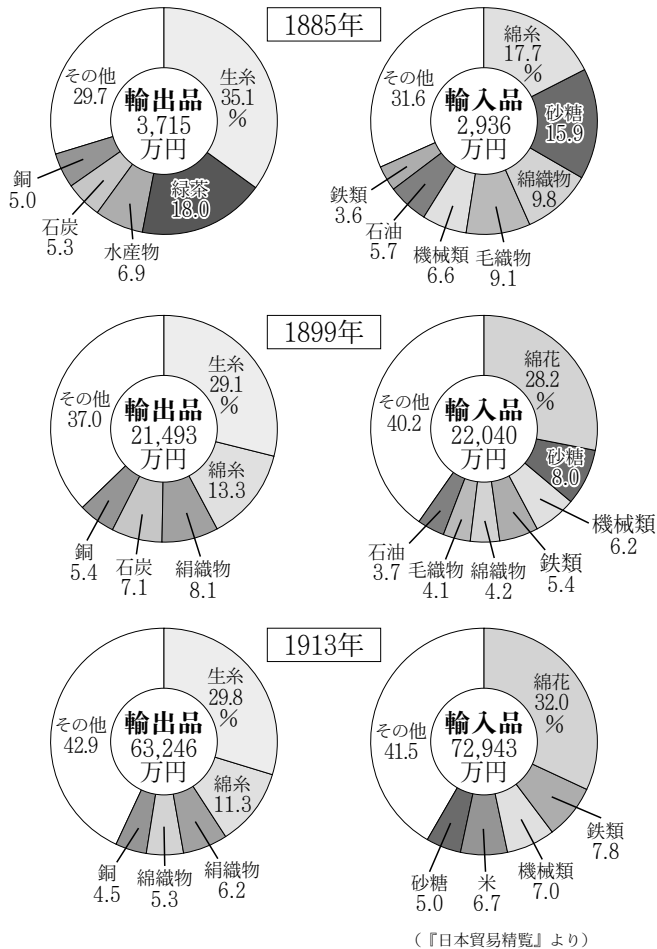
ア. ガス灯      イ. 鉄道馬車      ウ. レンガ造り  
エ. 映画      オ. 電信

問11 下線部Kに関する以下の文章で正しいものを次から1つ選び、記号で答えなさい。

- ア. 居留地に制限されたことは外国商人にとって商業上有利だった。
- イ. 日本人の商人が居留地の中に入り外国商人と取引をした。
- ウ. 居留地は日米和親条約に基づいて初めて設置された。
- エ. 輸入品に税金をかけられなかったので居留地に税関は無かった。
- オ. 外国人は居留地の中でのみ領事裁判権が認められていた。

問12 下線部Lに関して、以下は明治期から大正期の日本の貿易を示したグラフです。これらのグラフから考えられることとして適当なものを次から1つ選び、記号で答えなさい。

品目別の輸出入の割合



- ア. 1885年に比べ1899年は生糸の輸出額が減少しているため、この間、生糸の製造が衰退していると考えられる。
- イ. 1885年から1899年にかけて綿糸が輸入品から輸出品に転換しているため、綿糸の製造業が盛んになっていると考えられる。
- ウ. 1885年から1899年にかけて綿花の輸入が増えていることから綿産業が全体に衰退していると考えられる。
- エ. 3つの時期を通じて、外国の通貨を獲得する主要な産業は紡績業<sup>ぼうせき</sup>だと考えられる。
- オ. 3つの時期を通じて、綿織物の国内での利用が次第に減少していると考えられる。



問13 下線部Mに関して、最初の鉄道敷設<sup>ふせつ</sup>にこの2つの路線が選ばれた理由には、両者の共通点があります。それは何ですか。下の語句を使って、15字以内で説明しなさい。

【指定語句】 大都市

問14 空欄Nに当てはまる語句を次から1つ選び、記号で答えなさい。

- ア. 琉球藩    イ. 仙台藩    ウ. 会津藩    エ. 水戸藩    オ. 土佐藩

問15 下線部Oに関連して、江戸時代に横浜周辺を描いた作品XとYについて、作者の組み合わせとして正しいものを次から1つ選び、記号で答えなさい。



- ア. X－葛飾北斎    Y－歌川広重    イ. X－葛飾北斎    Y－喜多川歌麿
- ウ. X－歌川広重    Y－葛飾北斎    エ. X－歌川広重    Y－喜多川歌麿
- オ. X－喜多川歌麿    Y－葛飾北斎    カ. X－喜多川歌麿    Y－歌川広重

【問題 2】 2023年に広島でG 7のサミット（主要国首脳会議）が開催されることを知ったタスクさんは、広島について調べることにしました。これについてあとのA・Bの問いに答えなさい。

A

問 1 広島県が位置する中国地方には広島県も含めていくつの県がありますか。あてはまる数字を算用数字で答えなさい。

問 2 次の図 1 中から広島県にあてはまるものを 1 つ選び、記号で答えなさい。ただし、方位はすべて上が北を示し、—— は海岸線を、----- は都道府県の境を示します。◎は都道府県庁所在地を示しています。また、縮尺は図によって異なります。

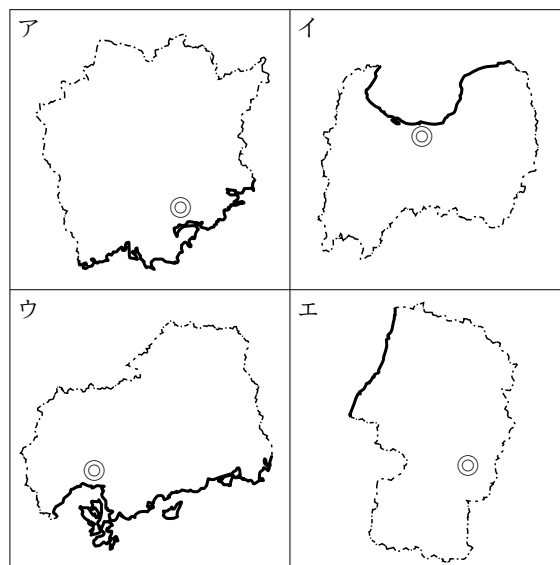


図 1

問3 タスクさんが広島市の市章（市を象徴するしるし）を調べたところ、江戸時代にこの地域を治めた藩の旗印をもとに、水の都として知られた広島を象徴する、川の流れを表現したものとわかりました。この説明にあてはまる広島市の市章を次の図2中から1つ選び、記号で答えなさい。

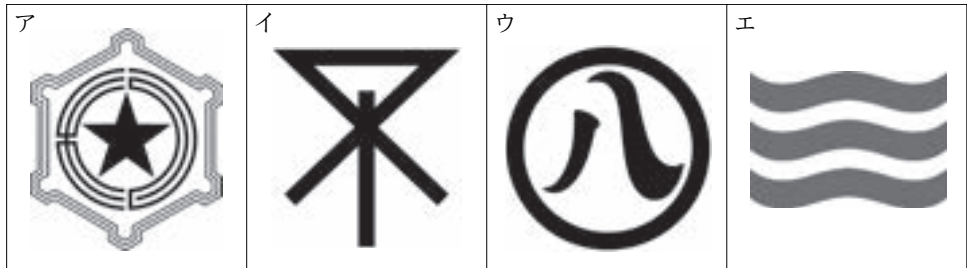
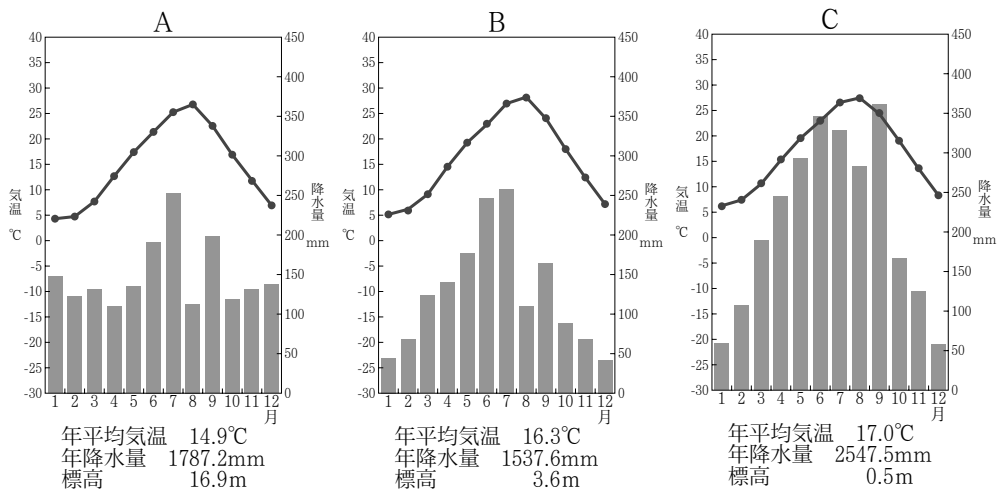


図 2

(市章は Wikipedia より)

問4 タスクさんは、瀬戸内に位置する広島市の気候の特徴を、日本海側や太平洋側の都市と比較して考察することになりました。次の図3は、高知市、広島市、松江市の気温と降水量を示したものです。図3中のA～Cと都市名との正しい組合せを次から1つ選び、記号で答えなさい。



(二宮書店『2022 データブック オブ・ザ・ワールド』をもとに作成)

図 3



	A	B	C
ア	高知市	広島市	松江市
イ	高知市	松江市	広島市
ウ	広島市	高知市	松江市
エ	広島市	松江市	高知市
オ	松江市	高知市	広島市
カ	松江市	広島市	高知市

問5 タスクさんは、G7に含まれる国を調べることにしました。G7に含まれない国と首脳の名前を次からそれぞれ1つずつ選び、記号で答えなさい。

国： ア. アメリカ合衆国    イ. イタリア    ウ. カナダ    エ. ロシア

首脳：ア. トルドー首相    イ. プーチン大統領  
ウ. バイデン大統領    エ. ショルツ首相

## B

広島でのG7サミットの開催にあたり、タスクさんは岸田文雄首相の発言を読んでみることにしました。次の文は、G7広島サミットに関する岸田首相の発言の一部を抜粋したものです。文中の下線部について問いに答えなさい。

ポスト①冷戦の30年が終わり、新しい時代が幕を開けようとする中、G7首脳が、広島<sup>の</sup>地から、②核兵器の惨禍<sup>を</sup>二度と起こさない、武力侵略<sup>は</sup>断固<sup>として</sup>拒否する、との力強いコミットメントを世界に示したいと思います。また、普遍的<sup>価値</sup>と国際ルールに基づく、新たな時代の秩序<sup>作り</sup>をG7が主導<sup>して</sup>いく意思を歴史の重みをもって示す。そうしたサミットにしたいと考えています。

(首相官邸ホームページより一部抜粋)

問6 下線部③に関連して、冷戦が激化した1949年、アメリカは社会主義諸国を封じ込めようとして西側陣営最大の国際軍事機構を設立しました。この名称をアルファベット大文字4字で答えなさい。

問7 下線部④に関連して、2022年には世界の核軍縮の方向性を協議するNPT（核拡散防止条約）の再検討会議<sup>かいさい</sup>が開催されました。世界の核軍縮に関する以下の設問に答えなさい。

(1) NPT（核拡散防止条約）では、国連安全保障理事会の常任理事国でもある5か国を「核兵器国」と定め、「核兵器国」以外への核兵器の拡散を防止することを規定しています。「核兵器国」と定められている国を下から選び、記号で答えなさい。

ア. イギリス      イ. イスラエル      ウ. ドイツ      エ. ブラジル

(2) この会議開催時点でNPT（核拡散防止条約）を調印していない国として、正しいものを次から1つ選び、記号で答えなさい。

ア. アメリカ      イ. インド      ウ. フランス      エ. ロシア

(3) タスクさんは第二次世界大戦中から日本が核兵器とどのようにかかわってきたのか調べることにしました。日本と核兵器のかかわりについて述べた説明として、誤っているものを次から1つ選び、記号で答えなさい。

ア. 1945年8月6日8時15分に広島に、同年8月9日11時2分に長崎に、世界で初めて原子爆弾が投下された。

イ. 1954年にアメリカはビキニ環礁<sup>かんしょう</sup>で水爆実験を行い、マグロ漁船の第五福竜丸が「死の灰」を浴び、乗組員が被ばくした。

ウ. 日本は、核兵器の保有や使用を禁止した「核兵器禁止条約」に参加している。

エ. 日本は、「持たず、作らず、持ち込ませず」という「非核三原則」を国会で決議している。

【問題3】 次の文を読んであとの問いに答えなさい。

日本では、2018年に気候変動適応法が成立しました。この法律では、温暖化の進行を抑える緩和策とは別に、国が環境への影響を抑える適応策を策定することを定めています。しかし、国連の気候変動に関する政府間パネル（IPCC）の第2作業部会は2022年2月に報告書を公表し、「人間が原因の地球温暖化が広い範囲に悪影響を与えている」と断定し、「適応策」に限界があることも指摘しました。

問1 気象庁はどこの省に属しているか、次から1つ選び、記号で答えなさい。

- ア. 国土交通省      イ. 経済産業省      ウ. 農林水産省  
エ. 環境省              オ. 文部科学省

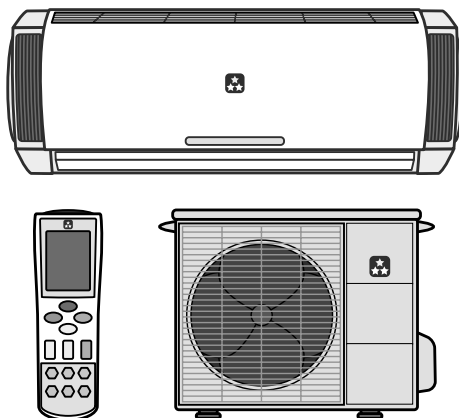
問2 次のイラストを踏まえて、自宅にエアコンがあったと仮定した場合、あなたが行動できる温暖化の進行を抑える取り組み（緩和策）と温暖化による人々への影響を最小限に抑える取り組み（適応策）をそれぞれ答えなさい。

私ができる

緩和策は、( )。

一方、

適応策は、( )。



関東学院中学校 2023年度入学試験問題

社 会

(一期C)

・答えはすべて解答用紙に記入しなさい

時間 30分

【問題 1】 次の文章を読んで、あとの問いに答えなさい。

日本最古の銭は和同開珎？ ではなく、富本銭？ でもなく、昔から言われていたのが「<sup>むもんぎんせん</sup>無文銀銭」という説。その名の通り一定の文字や文様の無い直径3センチ程度の円盤状の銀です。



無文銀銭  
(石上遺跡出土)

重さは10グラム前後でそろっています。中央には小さな穴があり、平板ですがA. 小さな銀の破片が付着したものもあります。問題はこれが通貨つまり銭なのか、あるいはただの財宝のようなものなのか。通貨と認めればこれが最古の銭となります。無文銀銭はB. 天智天皇の時代には存在していたようで、富本銭は天武天皇の時代、和同開珎は元明天皇の時代ですから、無文銀銭の方が古いということになります。元明天皇は天智天皇の娘でC. 平城京へ都を動かした天皇です。

天武天皇の時代の683年に「これからは銅銭をつかえ、銀銭はつかうな」という命令が出ていて、ここで言う銅銭が富本銭のことで、銀銭が無文銀銭のことならば正に通貨だったと言えるでしょう。もっとも銭そのものは弥生時代の遺跡から中国の銭が発見されますし、古墳時代の<sup>てつてい</sup>鉄錠（鉄の板）も通貨として利用されたと考える人もいます。

富本銭は銅銭で和同開珎には銅銭と銀銭の二種類がありましたが、それ以降の銭は基本的に銅銭です。奈良時代から平安時代にかけて「<sup>まんねんつうほう</sup>万年通宝」「<sup>じんぐうかいほう</sup>神功開宝」「<sup>りゅうへいえいほう</sup>隆平永宝」……と銭が作られ続けられましたがD. 10世紀半ばに「<sup>けんげんたいほう</sup>乾元大宝」を<sup>ちゅうぞう</sup>铸造した後は、日本では長い間、本格的な銭の铸造を行いませんでした。

では、その間、銭を用いた売買が行われなかったかということはありません。和同開珎の頃は、あまり銭が利用されないので<sup>ちくせんじょいれい</sup>蓄銭叙位令が発せられたり、E. 庸や調を銭で納めることを認めたりと、国が努力する必要がありました。しかし平安時代の後半には銭は民間でもかなり流通したようです。では、どんな銭を使っていたかと言えば、中国銭。中国から銭を輸入し、これを貿易はもちろん、国内での売買にも利用していました。F. 平清盛は宋との貿易を盛んに行いましたが、宋の銭も重要な輸入品でした。北海道の一つの遺跡から中国銭が40万枚近く発見されたこともあります。最もたくさん輸入されたのは明の時代の永樂通宝です。G. 織田信長の旗印としても有名です。

H. 室町時代には銭の利用がさらに活発になり年貢を銭で納める土地も多くなりましたが、 と称される政策で年貢は米で納めるという原則が全国に広がりました。

江戸幕府の3代将軍徳川家光の時代に寛永通宝が铸造され、以後江戸時代を通じて製造され使われました。江戸時代には銅銭と並んで金貨や銀貨も作られました。江戸では主に金貨が使われ大阪では主に銀貨が使われたことからJ.「江戸の金遣い、大阪の銀遣い」といった言葉も生まれました。話を複雑にするのが銀貨の額の決め方です。金貨や銅貨は今と同じように枚数を数えれば、金額が分かります。小判1枚で1両、7枚なら7両、銭1枚なら1文、16枚なら16文です。ところが銀貨の場合、単位は匁ですが、銀貨1枚が何匁と決まっていません。もともと匁とは重さの単位で、取引の時にその都度、重さをはかって使うのです。この銀貨は40匁、別の銀貨は50匁といった具合です。ちょうどいい重さに調整するため銀貨を切断して使うこともありました。

明治になって日本の通貨の単位は円・銭・厘に統一されました。10厘で1銭、100銭で1円です。今でも使っている単位です。銭や厘は硬貨の形としては目には見えませんが、為替相場では1ドルが142円52銭7厘などと表現することがあります。

1880年代に日本では銀本位制を確立させました。この過程で日本銀行が設立されます。現在も紙幣を発行している銀行です。また1897年にはK. 銀本位制を金本位制に切り替え 欧米諸国と同様になりました。金本位制では各国は自国の通貨を必ず一定の重さの金と交換することを保証します。その結果、金本位制をとっている国の間では通貨の交換率は安定します。たとえばL. 日本では100円を75グラムの金と交換すると約束していて、アメリカでは50ドルを75グラムの金と交換すると約束したとすると、円とドルは金を介して100円=金75グラム=50ドルとなり、つまり1ドル=2円として結びつくわけです。ところがM. 第一次世界大戦が起り、欧米諸国は金本位制を停止しました。日本もこれに倣いました。

明治時代以降、多くの人がお札の肖像となりました。お札が日本銀行券となって以降、現在に至るまで肖像に用いられた女性は だけです。初代内閣総理大臣の伊藤博文や自由民権運動で活躍し自由党初代の党首となった板垣退助などもあります。古くは藤原氏の祖である藤原鎌足、学問の神様や天神様として知られる、近代では二・二六事件で殺害された大蔵大臣の高橋是清などもあります。

問1 下線部Aについて、なぜこのような形状になったと考えられますか。本文を参考にして理由を説明しなさい。

問2 下線部Bの人物に関する説明として、誤っているものを次から1つ選び、記号で答えなさい。

- ア. 大化の改新で大きな役割を担った。
- イ. 死後、子と弟が争った。
- ウ. 7世紀の人物である。
- エ. 新羅や唐と争い勝利した。
- オ. 中臣鎌足と手を組んだ。

問3 下線部Cについて記した下の文で、誤っているものを次から1つ選び、記号で答えなさい。

- ア. 平安京よりも前の都である。
- イ. 貴族たちは京の中に住んだ。
- ウ. 皇居や役所もつくられた。
- エ. 碁盤目状に道が造られた。
- オ. 都の中には東大寺や平等院もあった。

問4 下線部Dのころの文化の特徴として、正しい説明はどれですか。次から1つ選び、記号で答えなさい。

- ア. 日本で初めて大きな寺院が造られ仏教文化が栄えた。
- イ. 多くの遣唐使が派遣され、中国を模範とした文化が栄えた。
- ウ. 天皇の命令で和歌集が編纂されるなど日本風の文化が栄えた。
- エ. 禅宗の影響で水墨画や漢詩が盛んに研究された。
- オ. 日本の伝統文化とされる能や狂言が盛んになった。

問5 下線部Eに関する次の文の中で、誤っているものを1つ選び、記号で答えなさい。

- ア. 庸は地元で労働をする税である。
- イ. 調は地元の産物を納める税である。
- ウ. 庸や調は律令に定められている。
- エ. 庸や調は女性には課されない。
- オ. 庸や調の他にも税は課された。

問6 下線部Fの人物について記した文で、誤っているものを次から1つ選び、記号で答えなさい。

- ア. 白河上皇の下で大きな権限をふるった。
- イ. 保元の乱や平治の乱で勝利した。
- ウ. 平氏一門で独占的な権力を手に入れた。
- エ. 娘を天皇に嫁がせ、出来た子を次の天皇にした。
- オ. 武士出身で初めて太政大臣になった。

問7 下線部Gの人物について記した文として、誤っているものを次から1つ選び、記号で答えなさい。

- ア. 桶狭間の戦いで今川義元に勝利した。
- イ. 天皇のいる都に安土城を建設した。
- ウ. 城下町で楽市楽座を行った。
- エ. 僧兵のいる延暦寺を焼打ちした。
- オ. 足利義昭を将軍に立て、のち追放した。

問8 下線部Hの時代に朝鮮半島で、新たに建国された国の名を漢字で答えなさい。

問9 空欄Iに入る適切な語句を漢字で答えなさい。

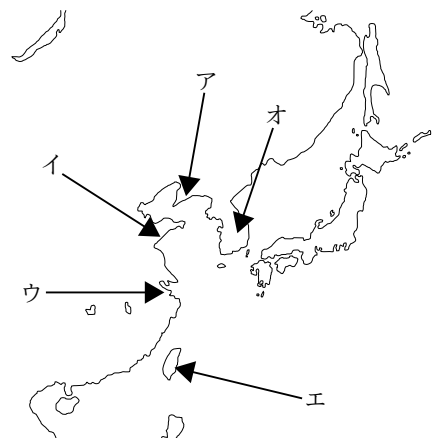
問10 下線部Jに関して、大阪と江戸を結んだ定期船を次から1つ選び、記号で答えなさい。

- ア. 内海船
- イ. 北前船
- ウ. 高瀬船
- エ. 朱印船
- オ. 菱垣廻船

問11 下線部Kのために、日本がある条約で獲得した資金が利用されました。その条約の名を漢字で答えなさい。

問12 下線部Lのように日米でそれぞれ約束しているにもかかわらず、日本では1ドルが1円と交換されていたとすると、手持ちのお金を倍増させる大きなチャンスです。このような状況で、あなたが日本で10000円を持っていたとしたら、どのようにしてお金を倍増させますか。どこで何をするのか明記し、○円、○ドル、○gなど具体的な数字を記し、順を追って説明してください。ただし交通費や送料・手数料は考えないものとします。

問13 下線部Mの戦争で日本が主に出兵した場所を右の図から1つ選び、記号で答えなさい。



問14 空欄Nと空欄Oに当てはまる人名をそれぞれ漢字で答えなさい。



【問題2】 中学2年生のミハルさんは、研修旅行先である京都について調べていく中で、資料①を見つけ、ウクライナの首都と京都市が姉妹都市であることを知りました。

ミハルさんは、ウクライナについて、いくつかの資料を用いて調べることにしました。

以下の資料を読み、あとの問いに答えなさい。

問1 ミハルさんはヨーロッパの地図を用いてウクライナの位置を確認することにしました。図1中からウクライナの位置として正しいものを次から1つ選び、記号で答えなさい。

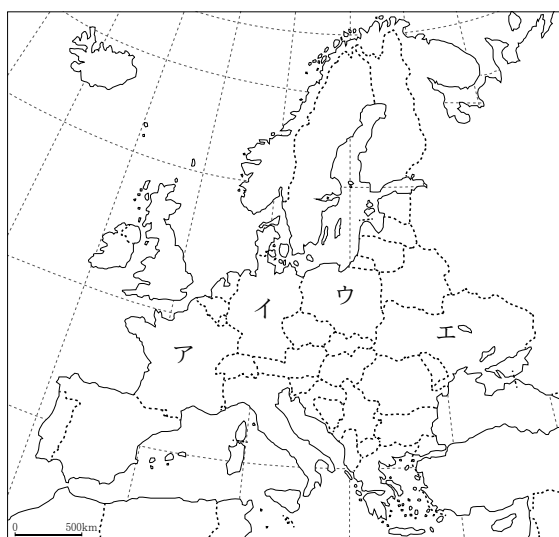


図 1

問2 資料1の  に入る、首都名をウクライナ語の読み方で答えなさい。

資料1  と姉妹都市の京都市 <sup>ひなん</sup>避難者受け入れ組織発足

ロシアから軍事侵攻を受けているウクライナの首都  と姉妹都市となっている京都市は、民間の交流団体などとともに、避難者の受け入れや支援にあたる新たな組織を立ち上げ、18日から活動を開始しました。

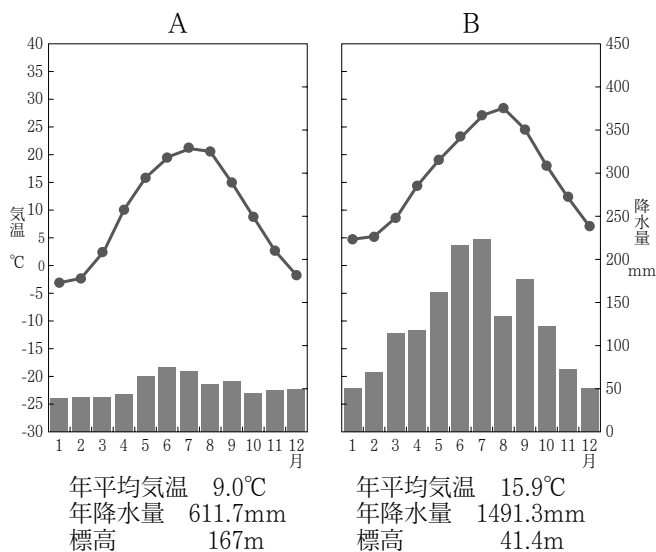
2022年3月18日 NHK NEWS WEBより一部抜粋

問3 ウクライナの国旗を目にする機会が増えたことに気付いたミハルさんは、国旗の意味を調べることにしました。ウクライナの国旗の説明として最も適当なものを次から1つ選び、記号で答えなさい。

- ア. 国内の3つの地域を守る聖人を象徴する十字架を組み合わせている。
- イ. 左上にはかつて植民地支配をしていた国の国旗が、右半分には南十字星など星が描かれている。
- ウ. 上下2色に分かれた国旗は、空と小麦を表すという説と、水と火を表すという説がある。
- エ. 2色からなり、中央には国の木であるカエデの葉が描かれている。

問4 ミハルさんは、日本とウクライナの間でどれくらいの時差があるのかを調べることにしました。標準時子午線を、ウクライナは東経30度、日本は東経135度として時差を求めなさい。ただし、夏時間は考慮しないものとします。

問5 ミハルさんはウクライナの首都と京都市が姉妹都市であることを知り、両都市の気候を比較することにしました。次の図2は、両都市の気温と降水量を示したものです。図2から読みとれることとして適当でないものを次から1つ選び、記号で答えなさい。



気象庁ホームページおよび理科年表をもとに作成

図 2

- ア. 気温を比較するとBの方が全体的に高いが、最も暖かい月と最も寒い月のそれぞれの平均気温の差はどちらも約25°Cである。
- イ. 降水量を比較すると、Aは季節による変化はあまりみられないが、Bは5月から7月にかけて降水量が多くなっている。
- ウ. 図Bで5月から7月にかけて降水が多くなっているのは、やませによる湿った風が原因だと考えられる。
- エ. 全体的に気温が低いAが、ウクライナの首都の雨温図である。

問6 資料2の  に入る国名を次から1つ選び、記号で答えなさい。

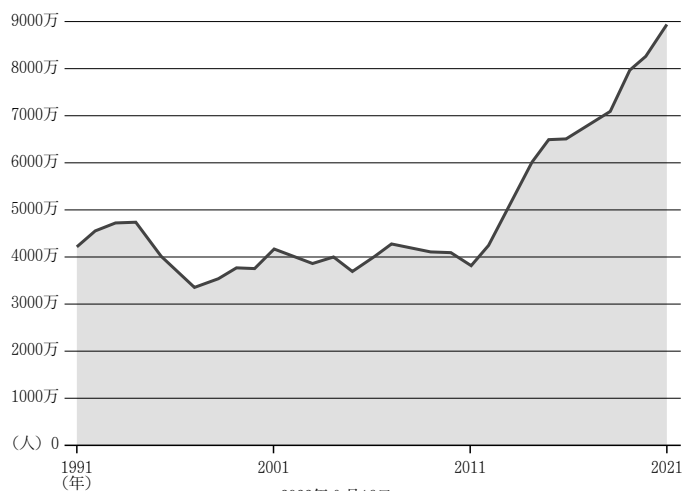
資料2 ウクライナ侵攻で再び露呈した日本の難民認定問題 なぜ「避難民」と呼び  
区別するのか

出入国在留管理庁によると、3月2日から7月12日までに日本に入国したウクライナ人は1508人（速報値）でした。ウクライナの近隣国とはいえ、 は一時300万人以上を受け入れ、ルーマニアが90万人、ハンガリーが58万人などと、日本とは桁違いで、その上で、生活上の支援も手厚く行っています。こうした国々は、**①**難民に食糧や医療を提供し、**②**EU圏内の移動をサポートしています。EUは最大で3年間の就労を認め、社会保障や住居、医療、教育へのアクセスを保障しています。

2022年7月16日 朝日新聞GLOBE+ より一部抜粋

ア. ポルトガル      イ. フランス      ウ. ポーランド      エ. ベラルーシ

問7 資料2の下線部**①**に関連して、次のグラフは2021年末時点で、紛争や迫害、暴力、人権侵害、公共の秩序を著しく乱す事象により、強制移住に直面した人の数を示しています。このグラフの説明として誤っているものを下から選び、記号で答えなさい。



2022年6月16日  
Source: UNHCRグローバル・トレンド・レポート2021

- ア. 2001年～2011年にかけて、紛争や迫害により故郷を追われた人の数は4000万人前後で推移している。
- イ. 2011年以降、紛争や迫害により故郷を追われた人の数は増加を続け、2021年には最大規模に達した。
- ウ. 2021年末時点の紛争や迫害により故郷を追われた人の数は10年前の2倍を超える数である。
- エ. 2021年末時点で、紛争や迫害により故郷を追われた人の数は8000万人近くとなった。

問8 資料2の下線部⑤に関連して、各国の説明として正しいものを次から1つ選び、記号で答えなさい。

- ア. EU加盟国であるフランスでは、2022年に大統領選挙が行われマクロン大統領が再選した。
- イ. EU加盟国であるイギリスでは、2022年にジョンソン首相が退陣した。
- ウ. EU加盟国であるトルコは、2022年6月時点で難民の最大受入れ国となっている。
- エ. EU加盟国であるドイツでは、2022年に国政選挙が行われ、メルケル首相が再選した。

問9 資料3はある農作物の国別生産量上位10か国を示したグラフです。Xに当てはまる農作物の名前を答えなさい。

資料3 Xの生産量が多い国

順位	国名	生産量(1,000トン) (2019年)
1	中華人民共和国	133,596
2	インド	103,596
3	ロシア	74,453
4	アメリカ合衆国	52,258
5	フランス	40,605
6	カナダ	32,348
7	ウクライナ	28,370
8	パキスタン	24,349
9	ドイツ	23,063
10	アルゼンチン	19,460

出典：外務省「世界いろいろ雑学ランキング」

問10 ミハルさんは、ウクライナがどのような国々と貿易をしているのかを調べたところ、周辺の国々との結びつきが強いことが分かりました。次の表1は、ウクライナの輸出相手国上位4か国を示したものです。表中のX～Zにあてはまる国名の組合せとして最も適当なものを次から1つ選び、記号で答えなさい。

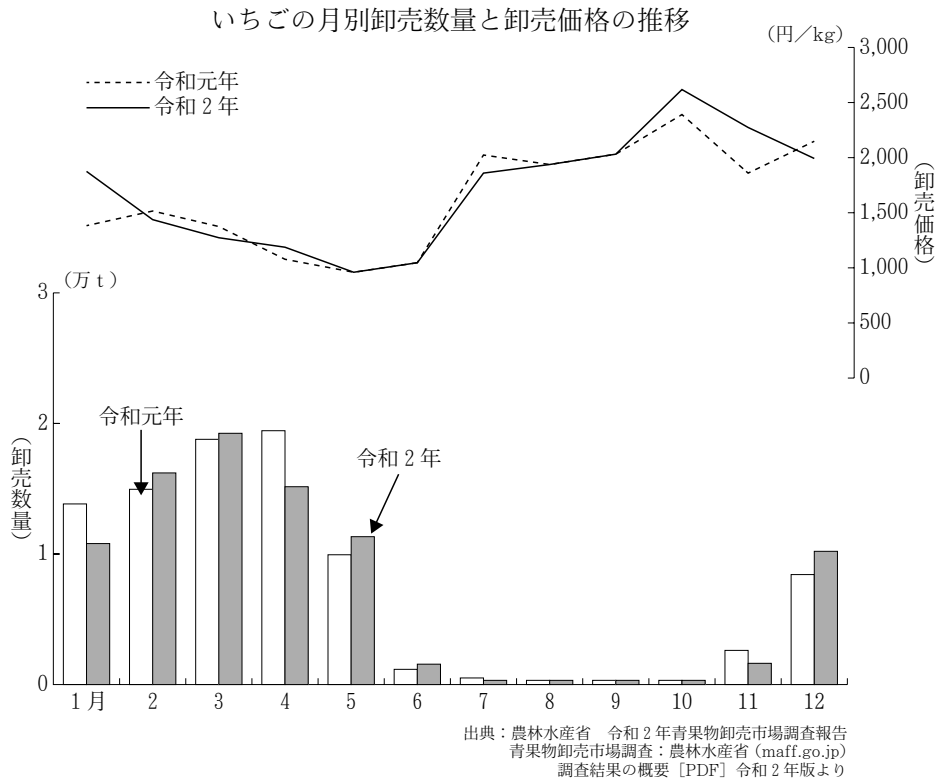
表 1  
金額による輸出相手国・地域の割合の変化

2010年			2020年		
順位	国・地域	割合 (%)	順位	国・地域	割合 (%)
1 位	X	26.1	1 位	Z	14.5
2 位	Y	5.9	2 位	ポーランド	6.7
3 位	イタリア	4.7	3 位	X	5.5
4 位	ベラルーシ	3.7	4 位	Y	4.9

(在日本ウクライナ大使館ホームページおよび二宮書店『2022 データブック オブ・ザ・ワールド』をもとに作成)

	X	Y	Z
ア	中国	トルコ	ロシア
イ	中国	ロシア	トルコ
ウ	トルコ	中国	ロシア
エ	トルコ	ロシア	中国
オ	ロシア	中国	トルコ
カ	ロシア	トルコ	中国

【問題3】 次の資料を見て、あとの問いに答えなさい。



問1 物価が上がり続け、お金の価値が下がる状態が続くことを意味する用語をカタカナで答えなさい。

問2 卸売価格が1月から5月にかけて下がっていることからわかるように、スーパーでも、1月にはいちごが1パック600円で売られていましたが、5月には同じ大きさのいちごが1パック300円で売られていました。なぜ、1月と5月では価格が異なるのか、生産者側の視点にたつて、価格設定の背景にあると考えられる理由を簡潔に述べなさい。